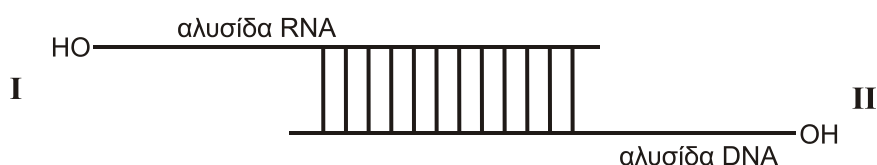


**ΠΑΝΕΛΛΑΔΙΚΕΣ ΕΞΕΤΑΣΕΙΣ  
Γ΄ ΤΑΞΗΣ ΗΜΕΡΗΣΙΟΥ ΓΕΝΙΚΟΥ ΛΥΚΕΙΟΥ  
ΤΡΙΤΗ 19 ΙΟΥΝΙΟΥ 2018  
ΕΞΕΤΑΖΟΜΕΝΟ ΜΑΘΗΜΑ: ΒΙΟΛΟΓΙΑ ΠΡΟΣΑΝΑΤΟΛΙΣΜΟΥ  
ΣΥΝΟΛΟ ΣΕΛΙΔΩΝ: ΕΞΙ (6)**

**ΘΕΜΑ Α**

Να γράψετε στο τετράδιό σας τον αριθμό καθεμιάς από τις παρακάτω ημιτελείς προτάσεις **A1** έως **A5** και δίπλα το γράμμα που αντιστοιχεί στη λέξη ή στη φράση, η οποία συμπληρώνει σωστά την ημιτελή πρόταση.

**A1.**



Στο παραπάνω υβριδικό μόριο DNA- RNA η DNA πολυμεράση:

- α. μπορεί να δράσει προς τη θέση I
- β. μπορεί να δράσει προς τη θέση II
- γ. μπορεί να δράσει προς τις θέσεις I και II
- δ. δεν μπορεί να δράσει.

**Μονάδες 5**

**A2.** Σε άτομα που πάσχουν από αιμορροφιλία Β χορηγείται:

- α. αυξητική ορμόνη
- β. παράγοντας IX
- γ. α1-αντιθρυψίνη
- δ. παράγοντας VIII.

**Μονάδες 5**

**A3.** Ραδιενεργός  $^{32}\text{P}$  και ραδιενεργό  $^{35}\text{S}$  είναι δυνατόν να ενσωματωθούν αντίστοιχα:

- α. σε έναν υποκινητή γονιδίου και ένα μονοκλωνικό αντίσωμα
- β. στην DNA πολυμεράση και σε ένα πλασμίδιο
- γ. στην RNA πολυμεράση και στην προΐνσουλίνη
- δ. στον χειριστή του οπερονίου της λακτόζης και στην λακτόζη.

**Μονάδες 5**

ΑΡΧΗ 2ΗΣ ΣΕΛΙΔΑΣ - Γ΄ ΗΜΕΡΗΣΙΩΝ

- A4.** Η πιθανότητα να προκύψουν άτομα με σύνδρομο Turner κατά τον λάθος σχηματισμό των γαμετών είναι:
- α. αυξημένη όταν ο μη αποχωρισμός συμβεί κατά την πρώτη μειωτική διαίρεση της μητέρας
  - β. αυξημένη όταν ο μη αποχωρισμός συμβεί στη δεύτερη μειωτική διαίρεση της μητέρας
  - γ. αυξημένη όταν ο μη αποχωρισμός συμβεί στη δεύτερη μειωτική διαίρεση του πατέρα
  - δ. ίδια σε όλες τις παραπάνω περιπτώσεις.

**Μονάδες 5**

- A5.** Την πρωτεΐνη α1-αντιθρυψίνη θα την εντοπίσουμε σε βακτηριακό κλώνο cDNA βιβλιοθήκης που έχει κατασκευαστεί από ώριμο mRNA κυττάρων
- α. παγκρέατος
  - β. ήπατος
  - γ. στομάχου
  - δ. μυελού των οστών.

**Μονάδες 5**

**ΘΕΜΑ Β**

- B1.** Να αντιστοιχίσετε τον κάθε αριθμό της **στήλης I** με ένα μόνο γράμμα της **στήλης II**.

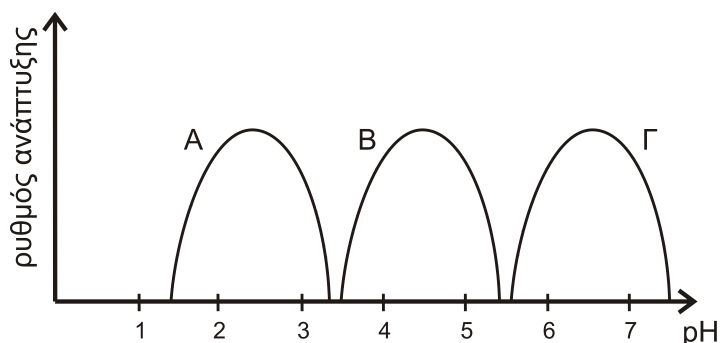
Στήλη I
1. Περιοριστική ενδονουκλεάση
2. Πρωταρχικό τμήμα
3. Πριμόσωμα
4. Άγαρ
5. Αντίσωμα
6. Απαμινάση της αδενοσίνης
7. Πλασμίδιο

Στήλη II
α. Πολυσακχαρίτης
β. Νουκλεϊκό οξύ
γ. Πρωτεΐνη

**Μονάδες 7**

- B2.** Στο ακόλουθο σχήμα 1 απεικονίζεται ο ρυθμός ανάπτυξης των μικροοργανισμών Α, Β, Γ. Ποιος από αυτούς μπορεί να ανήκει στο γένος *Lactobacillus* (μονάδες 2). Να αιτιολογήσετε την απάντησή σας (μονάδες 2).

**Μονάδες 4**



**σχήμα 1**

- B3.** Στο ακόλουθο σχήμα 2 απεικονίζεται το πέμπτο ζεύγος ομόλογων χρωμοσωμάτων ενός ανθρώπου. Να προσδιορίσετε το είδος της μετάλλαξης (μονάδες 2), την ασθένεια που προκαλεί η μετάλλαξη αυτή (μονάδες 2), καθώς και τον φαινότυπο του ανθρώπου που τη φέρει (μονάδες 2).



**σχήμα 2**

**Μονάδες 6**

- B4.** Να προσδιορίσετε σε ποιες από τις παρακάτω περιπτώσεις θα προκύψουν θραύσματα ίσου μήκους και σε ποιες διαφορετικού μήκους, μετά τη δράση της *EcoRI* σε:
- α.** Δύο αδελφές χρωματίδες.
  - β.** Δύο γονίδια, που κωδικοποιούν δύο διαφορετικές πολυπεπτιδικές αλυσίδες.
  - γ.** Δύο διαφορετικά πλασμίδια από δύο διαφορετικά βακτήρια.
  - δ.** Δύο μορίων κύριου DNA από δύο βακτήρια ενός βακτηριακού κλώνου.

(μονάδες 4)

Να αιτιολογήσετε τις απαντήσεις σας (μονάδες 4).

**Μονάδες 8**

**ΘΕΜΑ Γ**

Προκειμένου να εντοπισθεί ένα από τα γονίδια του tRNA της γλυκίνης (Gly), εργαζόμαστε με τη βοήθεια βιβλιοθήκης που έχει προκύψει από ευκαρυωτικό γενετικό υλικό.

**Γ1.** Με ποιο είδος βιβλιοθήκης πρέπει να εργαστούμε; (μονάδες 2) Να αιτιολογήσετε την απάντησή σας (μονάδες 5).

**Μονάδες 7**

**Γ2.** Το αντικωδικόνιο του tRNA που μελετάμε είναι το 3'CCC5'. Το γονίδιο αυτού του tRNA υφίσταται μετάλλαξη ώστε το αντικωδικόνιό του τώρα να μετατραπεί σε 3'ACC5' χωρίς περαιτέρω επιπτώσεις στην λειτουργικότητα του tRNA.

Το μεταλλαγμένο γονίδιο χρησιμοποιείται για τον μετασχηματισμό ενός βακτηρίου. Το βακτήριο δεν διαθέτει το αντίστοιχο φυσιολογικό γονίδιο και εκφράζει το μεταλλαγμένο γονίδιο του tRNA που του έχει εισαχθεί. Δίνονται οι κωδικές αλυσίδες δύο γονιδίων (α και β) του βακτηρίου που κωδικοποιούν δύο ολιγοπεπτίδια.

Γονίδιο α **ΑΤΑΑΓΤΑССGGGGCCGΤΑΤΑΑ**

Γονίδιο β **ΑΤΑΑΓΤΑССGGTGCCGΤΑΤΑΑ**

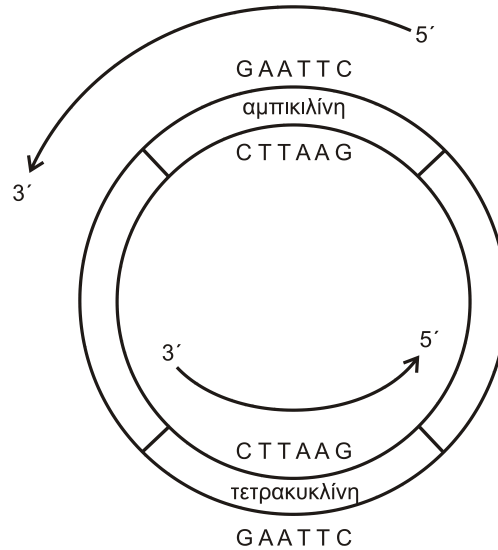
Θα παραχθούν πεπτίδια από την έκφραση και των δύο γονιδίων; (μονάδες 2) Να γράψετε την αλληλουχία όσων πεπτιδίων θα παραχθούν (μονάδες 4). Να αιτιολογήσετε τις απαντήσεις σας (μονάδες 7).

**Μονάδες 13**

Δίνεται ο γενετικός κώδικας:

		Δεύτερο γράμμα																				
		U	C	A	G																	
Πρώτο γράμμα	U	UUU } Φαινυλα- λανίνη (phe)	UCU } UCC } UCA } UCG }	Σερίνη (ser)	UAU } UAC } UAA } UAG }	Τυροσίνη (tyr)	UGU } UGC } UGA } UGG }	κυστεΐνη (cys)	λήξη	Τρυπτο- φάνη(trp)	Τρίτο γράμμα	U C A G										
		C	CUU } CUC } CUA } CUG }		Λευκίνη (leu)		CCU } CCC } CCA } CCG }						Προλίνη (pro)	CAU } CAC } CAA } CAG }	Ιστιδίνη (his)	CGU } CGC } CGA } CGG }	Αργινίνη (arg)					
			A				AUU } AUC } AUA }							Ισολευκίνη (ile)		ACU } ACC } ACA }		Θρεονίνη (thr)	AAU } AAC }	Ασπαραγίνη (asn)	AGU } AGC }	Σερίνη (ser)
							AUG }									Μεθειονίνη (met) έναρξη			ACG }		AAA } AAG }	
	G			GUU } GUC } GUA } GUG }		βαλίνη (val)	GCU } GCC } GCA } GCG }	Αλανίνη (ala)	GAU } GAC } GAA } GAG }	Ασπαρτικό οξύ (asp)		GGU } GGC } GGA } GGG }				Γλυκίνη (gly)						

**Γ3.** Στο σχήμα 3 απεικονίζεται πλασμίδιο που διαθέτει γονίδια ανθεκτικότητας σε δύο αντιβιοτικά, την αμπικιλίνη και τετρακυκλίνη και αναγράφονται εσωτερικές αλληλουχίες των δύο γονιδίων ανθεκτικότητας. Αφού το πλασμίδιο κοπεί με την EcoRI και εισαχθεί ένα γονίδιο ξένου οργανισμού σε αυτό να εξηγήσετε ποιο από τα δύο αντιβιοτικά θα χρησιμοποιούσατε για τη διάκριση των μετασχηματισμένων βακτηριακών κλώνων με ανασυνδυασμένο πλασμίδιο.



**σχήμα 3**

**Μονάδες 5**

**ΘΕΜΑ Δ**

**Δ1.** Σε ένα είδος ποντικών, το γονίδιο που προσδίδει το μαύρο χρώμα τριχώματος επικρατεί του λευκού και το γονίδιο που ευθύνεται για την μακριά ουρά επικρατεί του γονιδίου που ευθύνεται για την κοντή ουρά. Το φύλο στους ποντικούς καθορίζεται όπως στον άνθρωπο και τα γονίδια που ελέγχουν τα δύο χαρακτηριστικά βρίσκονται σε διαφορετικά ζεύγη ομόλογων χρωμοσωμάτων. Από αλληπάλληλες διασταυρώσεις του ίδιου μαύρου θηλυκού ποντικού με μακριά ουρά με τον ίδιο άσπρο αρσενικό με κοντή ουρά προέκυψαν:

- 31 αρσενικά μαύρα με μακριά ουρά
- 32 αρσενικά άσπρα με κοντή ουρά
- 31 αρσενικά μαύρα με κοντή ουρά
- 29 αρσενικά άσπρα με μακριά ουρά
- 30 θηλυκά μαύρα με μακριά ουρά
- 31 θηλυκά άσπρα με μακριά ουρά
- 29 θηλυκά μαύρα με κοντή ουρά
- 30 θηλυκά άσπρα με κοντή ουρά

ΑΡΧΗ 6ΗΣ ΣΕΛΙΔΑΣ - Γ΄ ΗΜΕΡΗΣΙΩΝ

- α. Να διερευνηθεί και να προσδιοριστεί ο τρόπος κληρονομησης των γονιδίων.  
**Μονάδες 6**
- β. Να γράψετε τους πιθανούς γονότυπους του θηλυκού γονέα.  
**Μονάδες 3**
- γ. Να δώσετε τις αντίστοιχες διασταυρώσεις.  
**Μονάδες 6**

Δεν απαιτείται η διατύπωση των νόμων του Mendel.

- Δ2.** Ένας άνδρας με τρία γονίδια που κωδικοποιούν την α-πολυπεπτιδική αλυσίδα της αιμοσφαιρίνης αποκτά δύο παιδιά με μία γυναίκα που φέρει δύο γονίδια που κωδικοποιούν την α-πολυπεπτιδική αλυσίδα της αιμοσφαιρίνης. Εάν το πρώτο παιδί που γεννήθηκε φέρει μόνο ένα γονίδιο που κωδικοποιεί την α-πολυπεπτιδική αλυσίδα της αιμοσφαιρίνης, ποια η πιθανότητα το δεύτερο παιδί να έχει φυσιολογικό γονότυπο και φαινότυπο;  
**Μονάδες 5**

Δεν απαιτείται η διατύπωση των νόμων του Mendel.

- Δ3.** Ένα είδος διπλοειδούς φυτού έχει δέκα χρωμοσώματα. Ένας ερευνητής έχει στη διάθεσή του δύο Bt διαγονιδιακά φυτά αυτού του είδους. Στο πρώτο, το γονίδιο της τοξίνης έχει ενσωματωθεί σε ένα από τα δύο ομόλογα χρωμοσώματα του πρώτου ζεύγους ενώ το δεύτερο σε ένα από τα δύο ομόλογα χρωμοσώματα του τέταρτου ζεύγους. Εάν τα δύο αυτά φυτά διασταυρωθούν μεταξύ τους, να γράψετε το ποσοστό των απογόνων της F1 γενιάς που θα είναι ανθεκτικά στα έντομα (μονάδες 2). Να αιτιολογήσετε την απάντησή σας (μονάδες 3).

**Μονάδες 5**

Δεν απαιτείται η διατύπωση των νόμων του Mendel.

**ΟΔΗΓΙΕΣ (για τους εξεταζομένους)**

1. Στο εξώφυλλο να γράψετε το εξεταζόμενο μάθημα. Στο εσώφυλλο πάνω-πάνω να συμπληρώσετε τα ατομικά σας στοιχεία. Στην αρχή των απαντήσεών σας να γράψετε πάνω-πάνω την ημερομηνία και το εξεταζόμενο μάθημα. **Να μην αντιγράψετε** τα θέματα στο τετράδιο και **να μη γράψετε** πουθενά στις απαντήσεις σας το όνομά σας.
2. Να γράψετε το ονοματεπώνυμό σας στο πάνω μέρος των φωτοαντιγράφων, αμέσως μόλις σας παραδοθούν. **Τυχόν σημειώσεις σας πάνω στα θέματα δεν θα βαθμολογηθούν σε καμία περίπτωση.** Κατά την αποχώρησή σας, να παραδώσετε μαζί με το τετράδιο και τα φωτοαντίγραφα.
3. Να απαντήσετε **στο τετράδιό σας** σε όλα τα θέματα **μόνο** με μπλε ή **μόνο** με μαύρο στυλό με μελάνι που δεν σβήνει.
4. Κάθε απάντηση επιστημονικά τεκμηριωμένη είναι αποδεκτή.
5. Διάρκεια εξέτασης: τρεις (3) ώρες μετά τη διανομή των φωτοαντιγράφων.
6. Χρόνος δυνατής αποχώρησης: 10.00 π.μ.

**ΣΑΣ ΕΥΧΟΜΑΣΤΕ ΚΑΛΗ ΕΠΙΤΥΧΙΑ  
ΤΕΛΟΣ ΜΗΝΥΜΑΤΟΣ**

ΤΕΛΟΣ 6ΗΣ ΑΠΟ 6 ΣΕΛΙΔΕΣ